



**ỦY BAN NHÂN DÂN XÃ VU GIA
TRƯỜNG TIỂU HỌC NGUYỄN THỊ BẢY**

***CHÀO MỪNG QUÝ THẦY CÔ VỀ
DỰ GIỜ THĂM LỚP***

Giáo viên : Phạm Thị Thanh Trúc





KHỞI ĐỘNG



Nhi Tin học

THỬ THÁCH LÀM VƯỜN





1

Một năm có bao nhiêu tháng ?

A

10

B

11

C

12

2

Tháng 1 có bao nhiêu ngày?



A

31

B

30

C

29

THÁNG 2 DƯƠNG LỊCH CÓ
BAO NHIÊU NGÀY?

3



A



30

B



29

C



28 hoặc 29
ngày



4

Kể tên các thứ trong 1 tuần?

Các thứ trong 1 tuần: Thứ hai, thứ ba, thứ tư, thứ năm, thứ sáu, thứ bảy, chủ nhật.


Thứ Năm ngày 16 tháng 4 năm 2026

TOÁN

**Bài 69: LUYỆN TẬP
CHUNG**
(Tiết 3)



1 Chọn câu trả lời đúng



a) Bây giờ là 11 giờ 20 phút, 10 phút nữa là đến giờ ăn trưa. Hỏi đồng hồ nào dưới đây chỉ giờ ăn trưa?



A



B



C

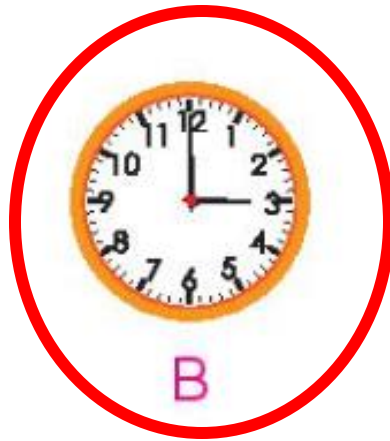


D


1 Chọn câu trả lời đúng



b) Bây giờ là 3 giờ 15 phút, các bạn đã ra chơi được 15 phút. Vậy đồng hồ chỉ 3 giờ là lúc bắt đầu ra chơi.



2 Số?



a) 1 giờ 30 phút = **90** phút

1 giờ = 60 phút

1 giờ 30 phút = 90 phút

c) 1 năm 6 tháng = **18** tháng

1 năm = 12 tháng

1 năm 6 tháng = 18 tháng

b) 1 tuần 3 ngày = **10** ngày

1 tuần = 7 ngày

1 tuần 3 ngày = 10 ngày


d) 1 ngày 6 giờ = **30** giờ

1 ngày = 24 giờ

1 ngày 6 giờ = 30 giờ

3

a) Hiện nay Mi đã được 6 năm 3 tháng tuổi. Hỏi sau bao nhiêu tháng nữa thì Mi tròn 7 tuổi?



Bài giải:

Ta có: 1 năm = 12 tháng

Hiện nay Mi đã được 6 năm 3 tháng tuổi. Vậy sau 9 tháng nữa thì Mi tròn 7 tuổi.

(Vì $12 \text{ tháng} - 3 \text{ tháng} = 9 \text{ tháng}$)

Đáp số: 9 tháng

3

b) Mai, Việt và Nam được sinh ra cùng năm nhưng khác tháng. Biết Việt được sinh ra vào tháng 1, Mai được sinh ra sau Việt 3 tháng và trước Nam 8 tháng. Hỏi Nam được sinh ra vào tháng mấy?



Bài giải:

Việt sinh ra vào tháng 1, Mai sinh sau Việt 3 tháng, suy ra Mai sinh ra vào tháng 4.

Mai sinh ra trước Nam 8 tháng

⇒ Vậy Nam sinh ra vào tháng 12. (Vì $8 + 4 = 12$)


Đáp số: Tháng 12



CUỘC ĐUA ĐẾN GIỜ TAN HỌC

Cách chơi:

- Chơi theo cặp
- Người chơi bắt đầu với chiếc kim đồng hồ chỉ 3 giờ. Khi đến lượt, người chơi quay kim đồng hồ thêm 5 hoặc 10 phút . Đọc giờ tại thời điểm đó.
- Trò chơi kết thúc khi có người chơi quay kim đồng hồ chỉ đúng 4 giờ.







Dặn dò

- Ôn lại bài

- Chuẩn bị bài tiếp theo



CHÚC CÁC EM
HỌC TỐT!

